

Solutions · Grade 2

How to read the solutions

The solutions are ordered by book page; each exercise appears under its title from the book. Read them in reading order: left to right and top to bottom, line by line (multiple values are separated by |). For picture exercises like the Golem and the Dragon, a small sketch shows where each number goes; the calculated cells are highlighted.

Wiederholung bis 20

Plus und Minus gemischt

7 | 6 | 7 | 5 | 4 | 15 | 15 | 6 | 9 | 8 | 7 | 19

Euli hat sich verrechnet

11 | 8 | 15 | 9 | 13 | 8 | 16 | 8

Plus-Tabelle

[11, 15, 17],[13, 17, 19],[9, 13, 15],[7, 11, 13]
[11, 12, 15],[16, 17, 20],[13, 14, 17],[9, 10, 13]
[12, 16, 20],[8, 12, 16],[11, 15, 19],[9, 13, 17]

Minus-Tabelle

[7, 3, 1],[9, 5, 3],[16, 12, 10],[6, 2, 0]
[5, 4, 1],[10, 9, 6],[7, 6, 3],[4, 3, 0]
[10, 6, 2],[8, 4, 0],[13, 9, 5],[17, 13, 9]

Gemischt-Tabelle (Plus und Minus)

[11, 15, 17],[13, 17, 19],[9, 13, 15],[7, 11, 13]
[9, 8, 5],[10, 9, 6],[7, 6, 3],[6, 5, 2]
[5, 9, 13],[8, 12, 16],[11, 15, 19],[9, 13, 17]

Rechne über den Zehner - Addition

3,3,13 | 2,5,15 | 1,4,14 | 4,4,14

Brücke über den Zehner - Addition

4,5,15 | 3,1,11 | 2,6,16 | 1,5,15 | 5,3,13 | 3,5,15 | 4,1,11
1,7,17

Zwanzigerfeld: über die Zehn rechnen

9,1,6,16 | 5,5,4,14 | 8,2,2,12 | 7,3,4,14

Wie viele sind es zusammen?

11 | 15 | 15 | 16 | 12 | 17

Finde den richtigen Weg!

2+3+4=9 | 1+6+8=15 | 2+5+4=11 | 1+2+3+4=10 | 8+4+5=17
8+3+9=20

Magisches Quadrat - Summe 15

9,3,7,8,1 | 2,6,9,1,3

Magische Dreiecke - Summe 12

5,6,3,1,2 | 4,3,1,2 | 5,1,3,2

Quadrate bis 20

5 | 3 | 6,9 | 3 | 6 | 8,2 | 5 | 4,6 | 6 | 6

Pfeilrechnen

+6,-2,+6,-10,+4 | +9,-6,+9,-12,+3 | -5,+1,-5,+9,-4
+7,-2,+7,-12,+5 | +3,+2,+3,-8,+5 | +4,-3,+4,-5,+1

Geheime Magier-Schrift

13 | 10 | 11 | 6 | 3 | 2 | 12 | 11 | 5

Entkomme dem Dungeon!

11,16,11,6,4,1,5,4 | 14,11,12,9,15,17,20

Auf dem Schulhof

- 1) 13
- 2) 8
- 3) 16
- 4) 7
- 5) 13

Datum bestimmen

- 1) 8
- 2) 13
- 3) 5
- 4) 15
- 5) 19
- 6) 9

Zahlen bis 100

Die Hundertertafel

12,23,34,45,56,67,78,89

Zehner eintragen

20,30,40,50,60 | 30,40,50,60,70 | 40,50,60,70,80
50,60,70,80,90 | 60,70,80,90,100 | 31,41,51,61,71
43,53,63,73,83 | 47,57,67,77,87 | 52,62,72,82,92
55,65,75,85,95

In 2er-Schritten zählen

26 | 36 | 50 | 62 | 68 | 84 | 82 | 92

Zerlege in Zehner und Einer!

4 | 50 | 2 | 40 | 9 | 60 | 7 | 90 | 8 | 70

Zahl in Z und E zerlegen

2,3 | 4,7 | 6,5 | 9,2 | 8,9 | 4,1

Zahlen bis 100 schreiben

13 | 24 | 36 | 47 | 58 | 65 | 71 | 82 | 90 | 99

Male die Zahl auf den Stangen

34 (3 Z + 4 E) | 52 (5 Z + 2 E) | 27 (2 Z + 7 E) | 60 (6 Z + 0 E)
45 (4 Z + 5 E) | 18 (1 Z + 8 E) | 73 (7 Z + 3 E) | 96 (9 Z + 6 E)
81 (8 Z + 1 E) | 39 (3 Z + 9 E) | 14 (1 Z + 4 E) | 67 (6 Z + 7 E)

Finde die Nachbarn!

24,26 | 39,41 | 57,59 | 72,74 | 90,92 | 13,15 | 26,28 | 37,39
45,47 | 51,53 | 60,62 | 67,69

Nachbarzehner

33,35 | 66,68 | 11,13 | 84,86 | 48,50 | 75,77 | 27,29 | 52,54
40,42 | 18,20 | 94,96 | 62,64

Zusammensetzen

47 | 23 | 81 | 59 | 65 | 38 | 74 | 96 | 12 | 88

Aus Z und E die Zahl bauen

25 | 43 | 69 | 87 | 31 | 54 | 70 | 96 | 18 | 42 | 61 | 84

In 7er-Schritten zählen

28 | 35 | 42 | 56 | 63 | 77 | 77 | 49

Numerion verzaubert die Zahl - Zehner- und Einertausch

26 | 74 | 53 | 18 | 92 | 65

Numerion bündelt die Einer

53 | 37 | 61 | 49 | 72 | 28 | 84 | 56

Ergänze die fehlenden Zahlen!

0 (10) 20 (30) 40 (50) | (50) 60 (70) 80 (90) 100
0 (5) 10 (15) 20 (25) | (50) 55 (60) 65 (70) 75

Hundertertafel ergänzen

4,7,9,10,12,15,18,20,23,26,28,30,31,34,37,39,43,46,49,50
52,55,58,60,63,65,68,70,72,74,77,80,83,86,89,90,92,94,97,100

Zähl-Treffer in der Tabelle

Cross (×2): 2, 4, 6, 8, 10, 12, 14, 16, 18, 20
Circle (×5): 5, 10, 15, 20 | Both marks: 10, 20

Vergleiche die Zahlen

< | = | > | < | > | < | = | < | > | < | < | >

Einer fehlt - welcher?

36 | 49 | 70 | 81 | 45 | 99 | 24 | 14

Solutions · Grade 2

Weiter in 7er-Schritten

24 | 26 | 29 | 32 | 51 | 69 | 74 | 68

Zahlen eintragen

20 (21) (22) 23 (24) 25 (26) (27) 28 (29) 30
40 (41) 42 (43) (44) 45 (46) (47) 48 (49) 50
70 (71) (72) (73) 74 (75) 76 (77) (78) (79) 80
50 (51) 52 (53) (54) 55 (56) 57 (58) (59) 60
80 (81) (82) 83 (84) (85) 86 (87) 88 (89) 90
30 (31) 32 (33) 34 (35) (36) 37 (38) (39) 40

Vergleiche die Rechnungen

$< | > | = | > | = | = | > | < | = | > | = | <$

Finde das Muster

4, 14, 24, 54, 64, 84, 94 | 70, 73, 75, 78, 79

Sortiere von klein nach groß!

12 < 45 < 78 | 34 < 56 < 90 | 23 < 41 < 67 | 15 < 62 < 88

Runden auf Zehner

30 | 80 | 50 | 90 | 20 | 70 | 20 | 90

Runden auf Zehner

40 | 30 | 90 | 60 | 70 | 90 | 40 | 10

Hundertertafel mit Mustern

11, 12, 13, 14, 15, 16, 17, 18, 19, 20, 35, 45, 55, 65, 75, 85, 88, 99

In 5er- und 10er-Schritten

20 | 40 | 55 | 70 | 60 | 45 | 63 | 56

Zahlen sortieren

E: O:

Addition über den Zehner

2, 4, 44 | 3, 5, 55 | 1, 6, 76 | 5, 4, 94

Subtraktion über den Zehner

5, 4, 26 | 2, 3, 37 | 4, 2, 48 | 3, 5, 65

Glatte Zehner addieren

30 | 70 | 60 | 50 | 60 | 90 | 60 | 60 | 90 | 90 | 90 | 100 | 80
80 | 90

Tauschaufgaben beim Plusrechnen

68 | 53 | 82 | 43 | 60 | 79 | 82 | 69

Gemischte Schritte

24 | 36 | 28 | 48 | 54 | 65 | 42 | 63

Plus bis 100 - Ergebnis finden

59 | 75 | 72 | 80 | 89 | 74 | 79 | 76 | 38 | 73

Verdopple die Zahl!

20 | 30 | 40 | 50 | 60 | 70 | 80 | 90 | 100 | 10

Magier und Eule teilen Sterne

7 | 9 | 11 | 13 | 15 | 17

Verdopple in der Tabelle

4 | 10 | 16 | 20 | 24 | 30 | 6 | 12 | 18 | 22 | 28 | 40

Einer dazu addieren

35 | 48 | 53 | 67 | 72 | 89 | 26 | 94 | 18 | 55 | 39 | 76 | 43 | 62
27

Schätzen und Überschlagen

90 | 50 | 70 | 50 | 80 | 50

Schätzen und Überschlagen

80 | 30 | 80 | 30 | 90 | 30

Was kostet das zusammen?

- 1) 6
- 2) 12
- 3) 11

4) 15

Halbiere die Zahl!

10 | 11 | 15 | 18 | 20 | 22 | 25 | 30 | 35 | 40 | 45 | 50

Plus bis 100 - Was fehlt?

53 | 36 | 47 | 48 | 33 | 49 | 45 | 46 | 48 | 53 | 19 | 48

Verdopple in der Tabelle

6 | 12 | 18 | 22 | 28 | 36 | 8 | 14 | 20 | 26 | 32 | 38

Gerecht teilen mit Zehnerzahlen

10 | 15 | 20 | 25 | 30 | 35 | 40

Knifflige Zahlenfolgen

32 | 36 | 54 | 42 | 52 | 59 | 56 | 48

Zweistellig plus einstellig

28 | 38 | 58 | 48 | 68 | 80 | 19 | 89 | 49 | 59 | 79 | 99 | 29 | 39
49

Verdopple die Zahl!

24 | 36 | 46 | 70 | 28 | 54 | 62 | 84 | 96 | 26 | 34 | 42

Halbiere die Zahl!

12 | 18 | 22 | 25 | 34 | 45

Kniffliges Teilen

18 | 24 | 28 | 32 | 36 | 44 | 50

Halbiere in der Tabelle

2 | 4 | 5 | 7 | 9 | 10 | 3 | 6 | 8 | 11 | 12 | 14

Zweistellig plus zweistellig

37 | 56 | 75 | 75 | 58 | 89 | 78 | 89 | 59 | 69 | 69 | 79

Minus bis 100 - Ergebnis finden

53 | 45 | 26 | 56 | 45 | 35 | 39 | 28 | 53 | 45 | 27 | 45

Baue die Mauer auf!

20, 23, 43 | 30, 15, 45 | 20, 25, 30, 45, 55, 100

Glatte Zehner subtrahieren

30 | 40 | 40 | 50 | 40 | 60 | 20 | 20 | 30 | 10 | 70 | 20 | 60 | 20
20

Verdopple in der Tabelle

32 | 42 | 50 | 60 | 68 | 80 | 36 | 46 | 54 | 64 | 72 | 88

Finde die fehlenden Zahlen!

10, 20, 25 | 20, 38, 32 | 10, 15, 20, 25, 35, 80

Plus-Tabelle

8, 6, 9, 5, 14 | 10, 5, 9, 6, 15 | 9, 6, 12, 3, 15

Minus bis 100 - Was fehlt?

45 | 47 | 43 | 45 | 35 | 36 | 47 | 54 | 35 | 45 | 35 | 49

Vier-Stockwerke-Mauer

10, 11, 8, 21, 19, 40 | 13, 12, 9, 25, 21, 46

Halbiere in der Tabelle

3 | 6 | 8 | 11 | 13 | 15 | 4 | 7 | 9 | 12 | 14 | 17

Großes Rechenquadrat

3, 7, 5 | 7, 7, 7 | 2, 2, 5

Plus-Tabelle bis 50

20, 20, 23, 17, 40 | 20, 20, 29, 11, 40 | 20, 19, 23, 16, 39

Einer abziehen

32 | 43 | 53 | 63 | 74 | 81 | 92 | 21 | 50 | 62 | 40 | 81 | 32 | 72
92

Zweistellig minus zweistellig

33 | 44 | 44 | 35 | 43 | 33 | 22 | 63 | 43 | 44 | 42 | 41

Verdopple in der Tabelle

48 | 66 | 76 | 84 | 94 | 100 | 52 | 70 | 78 | 82 | 92 | 98

Solutions · Grade 2

Was fehlt?

30 | 65 | 35 | 70 | 65 | 75 | 55 | 75 | 55 | 75

Leichte Ketten

44 | 45 | 35 | 45 | 45 | 52 | 50 | 65 | 40 | 64

Wie viel Rückgeld?

- 1) 2
- 2) 11
- 3) 1
- 4) 9

Knifflige Ketten

30 | 50 | 40 | 43 | 65 | 50 | 36 | 65 | 48 | 68

Halbiere in der Tabelle

16 | 20 | 24 | 28 | 32 | 35 | 18 | 22 | 26 | 30 | 34 | 36

Leichte Raupen

40 | 60 | 70 | 60 | 80 | 40 | 70 | 60 | 50 | 30

Mit Zehnern

30 | 45 | 65 | 55 | 75 | 30 | 50 | 60 | 75 | 95

Knifflige Raupen

63 | 40 | 62 | 81 | 96 | 44 | 59 | 82 | 65 | 85

Lange Raupe

35 | 60 | 50 | 80 | 60 | 70 | 70 | 55 | 80 | 50 | 65 | 85

Zahlenhäuser

20+30 35+15 35+15 | 35+25 40+20 50+10
30+50 35+45 55+25 | 60+40 65+35 75+25
30+40 45+25 50+20 | 40+50 25+65 55+35

Halbiere in der Tabelle

22 | 29 | 33 | 39 | 45 | 50 | 23 | 27 | 31 | 40 | 44 | 48

Behälter zusammenzählen

27 | 28 | 25 | 27 | 27 | 25

Plus-Tabelle

[25, 30, 35],[40, 45, 50],[45, 50, 55]
[19, 27, 33],[32, 40, 46],[37, 45, 51]
[25, 29, 38],[34, 38, 47],[48, 52, 61]

Umkehraufgaben

35,20 | 42,18 | 54,23 | 28,45 | 36,27 | 49,31 | 25,14 | 38,26
17,52

Welcher Schritt kommt?

39 | 34 | 60 | 40 | 64 | 69 | 72 | 64

Minus-Tabelle

[45, 40, 30],[65, 60, 50],[75, 70, 60]
[41, 33, 27],[56, 48, 42],[71, 63, 57]
[49, 44, 33],[59, 54, 43],[84, 79, 68]

Plus-Tabelle bis 100

40, 40, 46, 34, 80 | 50, 40, 59, 31, 90 | 40, 40, 52, 28, 80

Finde die Umkehrung

80,80 | 67,67 | 91,91 | 75,75 | 84,84 | 96,96 | 58,58 | 72,72
89,89

Plus-Tabelle bis 100

[25, 32, 41],[43, 50, 59],[62, 69, 78]
[30, 38, 46],[47, 55, 63],[57, 65, 73]
[21, 28, 39],[38, 45, 56],[57, 64, 75]

Zehner in der Blume

20,30,40,50,60,70,80,90,100 | 0,10,20,30,40,50,60,70,80
10,15,20,25,30,35,40,45,50

Minus-Tabelle bis 100

[26, 22, 15],[56, 52, 45],[86, 82, 75]

Fünfer-Schritte

10,15,20,25,30,35,40,45,50 | 5,10,15,20,25,30,35,40,45
20,30,40,50,60,70,80,90,100

Große Plus-Tabelle

[20, 27, 34, 42],[33, 40, 47, 55],[42, 49, 56, 64],[49, 56, 63,
71]
[20, 27, 35, 49],[34, 41, 49, 63],[43, 50, 58, 72],[55, 62, 70,
84]

Drei Behälter zusammen

36 | 39 | 40 | 38

Große Minus-Tabelle

[39, 32, 24, 10],[54, 47, 39, 25],[69, 62, 54, 40],[89, 82, 74,
60]
[43, 36, 28, 12],[61, 54, 46, 30],[75, 68, 60, 44],[92, 85, 77,
61]

Siebener-Schritte

14,21,28,35,42,49,56,63,70 | 0,7,14,21,28,35,42,49,56
28,42,56,70,84,98

Halbschriftlich rechnen

60,12,72 | 60,14,74 | 70,11,81 | 70,11,81 | 80,11,91
70,11,81

Mit Zehnerübergang

80,14,94 | 60,16,76 | 80,13,93 | 70,15,85 | 70,15,85
80,14,94

Euro und Cent zusammenrechnen

\$3 78¢ | \$1 167¢ | \$4 74¢ | \$4 189¢

Wie viel Geld liegt hier?

\$5 | \$7 | \$8 | \$9 50¢ | \$12 | \$13 50¢

Viele Münzen zählen

\$10 35¢ | \$17 35¢ | \$14 25¢ | \$20 | \$7 65¢ | \$28 | \$8 40¢
\$20 35¢

Welche Münzen brauchst du?

\$2 + \$2 + \$2 + \$1 | \$2 + \$2 + \$2 + \$2 + \$2 + \$2 + 25¢ + 25¢
\$2 + \$2 + \$2 + \$2 + 25¢ + 25¢ + 10¢ + 10¢
\$2 + \$2 + \$1 + 25¢ + 10¢ + 5¢
\$2 + \$2 + \$2 + \$2 + \$2 + \$2 + \$2 + \$1 + 10¢ + 10¢
\$2 + \$2 + \$2 + \$2 + \$1 + 25¢ + 25¢ + 25¢ + 10¢ + 5¢

So liest du die Uhr

3:00 | 3:00

Volle und halbe Stunden

8:00 | 3:30 | 11:00 | 6:30 | 1:00 | 9:30 | 4:00 | 7:30 | 10:00

Noch mehr Beträge legen

\$2 + \$2 + \$2 + \$2 + \$2 + \$2 + \$2 + \$1
\$2 + \$2 + \$2 + 25¢ + 5¢
\$2 + \$2 + \$2 + \$2 + \$2 + \$2 + \$2 + \$2 + \$2 + \$2
\$2 + \$2 + \$2 + \$2 + \$2 + \$1 + 25¢ + 25¢ + 25¢ + 5¢
\$2 + \$2 + \$2 + \$2 + \$1 + 25¢
\$2 + \$2 + \$2 + \$2 + \$2 + \$2 + \$2 + \$2 + \$1 + 25¢ + 25¢ + 10
¢ | \$2 + \$2 + \$2 + \$2 + \$2 + \$2 + \$1 + 25¢ + 10¢ + 10¢

Viertelstunden

2:15 | 5:45 | 8:15 | 10:45 | 1:45 | 4:15 | 7:45 | 11:15 | 3:45

Minuten genau

3:10 | 7:25 | 11:40 | 1:05 | 5:35 | 9:50 | 2:20 | 6:55 | 10:05

Solutions · Grade 2

Uhrzeiten gemischt

4:00 | 1:30 | 9:35 | 6:55 | 11:00 | 7:15 | 3:45 | 10:20 | 12:10

Zeitspannen und Einheiten

- 1) 60
- 2) 24
- 3) 30
- 4) 45
- 5) 7

Welcher Tag ist es?

- 1) 15
- 2) 22
- 3) 7
- 4) 11

Nachbaraufgaben - clever rechnen

- 1) 13
- 2) 17
- 3) 11
- 4) 15
- 5) 17

Zahlenfolgen-Profi

48 | 64 | 63 | 71 | 79 | 76 | 56 | 54

Rechengeschichten

- 1) 46
- 2) 32
- 3) 23
- 4) 75
- 5) 25

Euli rechnet bis 100

54 | 42 | 63 | 45 | 67 | 45 | 93 | 45 | 70 | 47

Magisches Quadrat - Summe 30

6,12,8,14 | 6,8,12,14

Magische Dreiecke mit Fünferzahlen

10,15,30,20,25 | 5,15,25,10 | 20,25,5,15

Einkaufen

- 1) 40
- 2) 18
- 3) 6
- 4) 8
- 5) 2

Magisches Quadrat - Summe 45

11,17,13,19 | 11,13,17,19

Magische Dreiecke mit Sechserzahlen

12,18,36,24,30 | 6,18,30,12 | 24,30,6,18

Knifflige Aufgaben

- 1) 41
- 2) 47
- 3) 24
- 4) 42
- 5) 4

Magisches Quadrat - Summe 15

2,4,7,3,6,8 | 6,8,7,3,2,4

Pausenhof-Spiele

23 | 17 | 31 | 28 | Seilspringen

Formen und Muster kombinieren

6

Mehr Muster kombinieren

9

Wahrscheinlich oder unmöglich?

möglich | unmöglich | sicher | möglich

Zahlen-Zauber bis 100

5 | 0

Wer bin ich?

- 1) 34
- 2) 57
- 3) 70
- 4) 86

Geheime Magier-Schrift bis 100

65 | 51 | 73 | 50 | 22 | 8 | 43 | 58 | 15

Rechenquadrate bis 50

12 | 18 | 18,22 | 21,20 | 8 | 10 | 9 | 5 | 8 | 9

Spinnenrad - Addition

40,25,43,35 | 15,55,40,50 | 52,15,75,40

Hexen-Rezepte bis 100

55 | 67 | 71 | 77 | 74 | 78 | 85 | 78

Noch ein Zahlenrätsel

- 1) 83
- 2) 42
- 3) 62
- 4) 75

Stempel in der Klasse

36 | 42 | 29 | 47 | David

Sicher, möglich oder unmöglich?

sicher | unmöglich | möglich | möglich

Rechenquadrate bis 100

25 | 28 | 24,31 | 23,27 | 1 | 2 | 2 | 3 | 1 | 2

Finde den Weg!

10+15+25=50 | 15+25+20=60 | 30+10+15=55

20+15+10+5=50 | 25+10+15=50 | 10+20+15+40=85

Noch kniffliger!

28+22+15=65 | 40+30+10=80 | 42+17+11=70

30+25+20=75 | 18+27+21=66 | 29+13+18=60

Zutatensuche im Dungeon

70,52,82,60,56 | 35,72,57,85,56 | 75,47,71,52,78

Finde den Weg durch das Dungeon!

25,45,60,52,70,58,83 | 50,64,73,48,65,57,77

Folge den Hinweisen!

35,23,53,45,67 | 35,55,37,50,63 | 57,40,50,35,63

Knifflige Zutatensuche im Hunderterland

46,84,65,78,49 | 67,50,74,59,55 | 36,63,49,81,55

Kettenaufgaben

42 | 46 | 40 | 55 | 55 | 60 | 39 | 54 | 43 | 68

Boss-Level Zahlenraum 100

30,36,66 | 40,42,82 | 27,22,60,82 | 28,26,61,85

Gewichte, Längen und Formen

Welche Flächen brauchst du?

Circle 0, Triangle 0, Square 6, Rectangle 0

Circle 0, Triangle 0, Square 0, Rectangle 6

Circle 0, Triangle 4, Square 1, Rectangle 0

Circle 2, Triangle 0, Square 0, Rectangle 0

Solutions · Grade 2

Circle 1, Triangle 0, Square 0, Rectangle 0

Circle 0, Triangle 0, Square 0, Rectangle 0

Welche Waage passt?

left heavier | right heavier | Balanced | left heavier

right heavier | Balanced | left heavier | right heavier

Gewichte rechnen

1) 350 g

2) 2000 g

3) 44 kg

4) 2 kg

5) 1000 g

Was ist schwerer?

> | > | < | = | > | < | > | <

Wie lang ist der Strich?

3 | 5 | 7 | 4 | 8 | 6 | 10 | 9

Meter und Zentimeter umrechnen

100 | 1 | 200 | 2 | 300 | 5 | 400 | 7

Gemischte Längen umrechnen

120 | 1 m 50 cm | 205 | 2 m 5 cm | 180 | 3 m 40 cm | 450

5 m 0 cm

Stäbe in Zentimetern

C | B | A | C

Bleistifte vergleichen

Clara | Emma | Tom | Leo

Gewichte vergleichen

> | = | < | > | < | = | > | >

Hohlmaße vergleichen

> | = | < | > | > | = | < | >

Sachaufgaben mit Größen

1) 20 kg

2) 600 g

3) 700 ml

4) 3 l

5) 60 l

Eigenschaften von Formen

1) 3

2) 4

3) 0



4) 4

5) 5

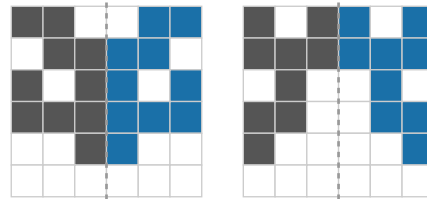
Körper und ihre Eigenschaften

8 | 12 | 6 | 8 | 0 | 3

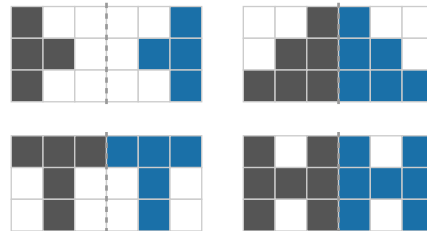
Spiegelachsen finden



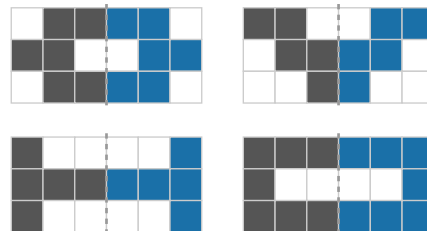
Spiegelbilder ergänzen



Spiegelbilder vervollständigen



Spiegelbilder zu Ende malen



Setze das Muster fort!

Schwierigere Muster

Bunte Muster

kr, qb | dg, kg | kr, ql, kr | db, qr

Welches ist ein Würfelnetz?

No | No | No | No

Drei Würfel zusammenzählen

15 | 13 | 14 | 15 | 13 | 16 | 12 | 15

Plus und Minus mit drei Würfeln

9 | 7 | 10 | 5 | 9 | 7 | 6 | 5

Domino ablesen

3 + 4 = 7 | 2 + 5 = 7 | 5 + 0 = 5 | 4 + 3 = 7 | 1 + 5 = 6

5 + 4 = 9

Domino bis 12

6 + 4 = 10 | 5 + 6 = 11 | 6 + 6 = 12 | 4 + 5 = 9 | 9 + 9 = 18

Solutions · Grade 2

$12 + 10 = 22$

Orientierung im Gitter

- 1) A1
- 2) Hund
- 3) D5
- 4) Baum

Diagramme

Wetter im April

- 1) Sonne
- 2) 6
- 3) 30

Lieblingsobst in der Pause

- 1) Traube
- 2) 14

Wie kommst du zur Schule?

- 1) zu Fuß
- 2) 10

Gesammelte Muscheln am Strand

- 1) Tim
- 2) 13

Lieblingstiere der Klasse 2b

- 1) Hund
- 2) 18

Obstkorb in der Schule

- 1) 24
- 2) Kiwi

Verkaufte Eissorten

- 1) Schoko
- 2) 16

Blumen im Garten

- 1) Tulpe
- 2) 12

Von der Tabelle zum Diagramm

Eichel: 7 | Feder: 4 | Pilz: 9 | Stein: 5

Von der Tabelle zum Diagramm

Blatt: 6 | Kastanie: 3 | Schnecke: 8 | Wurm: 2

Von der Tabelle zum Diagramm

Himbeere: 5 | Brombeere: 9 | Heidelbeere: 6 | Erdbeere: 8
Brombeere | 28

Vom Diagramm zur Tabelle

rot: 7 | blau: 4 | grün: 9 | gelb: 6

Welcher Balken ist falsch?

Käfer: richtig 9 (gezeichnet 6)

Finde den falschen Balken

Eicheln: richtig 8 (gezeichnet 10)

Einmaleins

Verdopple - die 2er-Reihe als Plus

3 | 5 | 7 | 9

Tauschaufgaben beim Malnehmen

6 | 12 | 10 | 20 | 18 | 12 | 15 | 24

Reihen weiterzählen

4, 6, 8, 10, 12, 14, 16, 18, 20, 22, 24, 26, 28
10, 15, 20, 25, 30, 35, 40, 45, 50, 55, 60, 65, 70
20, 30, 40, 50, 60, 70, 80, 90, 100

6, 9, 12, 15, 18, 21, 24, 27, 30, 33, 36, 39, 42
8, 12, 16, 20, 24, 28, 32, 36, 40, 44, 48, 52, 56

Zählreihen ausfüllen

3, 6, 9, 12, 15, 18, 21, 24, 27, 30 | 4, 8, 12, 16, 20, 24, 28, 32, 36, 40
5, 10, 15, 20, 25, 30, 35, 40, 45, 50
6, 12, 18, 24, 30, 36, 42, 48, 54, 60

Die 2er-Reihe

2 | 4 | 6 | 8 | 10 | 12 | 14 | 16 | 18 | 20 | 12 | 6 | 18 | 2 | 14

Kleine Mal-Tabelle

[2, 5, 10], [6, 15, 30], [10, 25, 50], [16, 40, 80]
[6, 8, 12], [12, 16, 24], [21, 28, 42], [27, 36, 54]
[6, 21, 27], [10, 35, 45], [12, 42, 54], [20, 70, 90]

Welche Zahl steht oben?

[2, 3, 5] | [4, 6, 7] | [3, 8, 10]

Was fehlt in der 2er-Reihe?

3 | 6 | 8 | 4 | 10 | 7 | 2 | 9 | 5 | 10

Die 5er-Reihe als Plus

3 | 5 | 7 | 9

Reihen bis zur 6

4, 6, 8, 10, 12, 14, 16, 18, 20, 22, 24, 26, 28
6, 9, 12, 15, 18, 21, 24, 27, 30, 33, 36, 39, 42
8, 12, 16, 20, 24, 28, 32, 36, 40, 44, 48, 52, 56
10, 15, 20, 25, 30, 35, 40, 45, 50, 55, 60, 65, 70
12, 18, 24, 30, 36, 42, 48, 54, 60, 66, 72, 78, 84

Tauschen spart Rechnen

14 | 18 | 28 | 18 | 30 | 24 | 24 | 35

Die 5er-Reihe

5 | 10 | 15 | 20 | 25 | 30 | 35 | 40 | 45 | 50 | 10 | 40 | 20 | 50
30

2er, 3er und 4er

[4, 6, 8, 10], [8, 12, 16, 20], [12, 18, 24, 30], [16, 24, 32, 40]

Finde die Kopfzahlen

[3, 6, 8]

Was fehlt in der 5er-Reihe?

3 | 6 | 9 | 2 | 10 | 5 | 7 | 8 | 1 | 4

Grosse Reihen

12, 18, 24, 30, 36, 42, 48, 54, 60, 66, 72, 78, 84
14, 21, 28, 35, 42, 49, 56, 63, 70, 77, 84, 91, 98
16, 24, 32, 40, 48, 56, 64, 72, 80, 88, 96
18, 27, 36, 45, 54, 63, 72, 81, 90, 99
20, 30, 40, 50, 60, 70, 80, 90, 100

Zählreihen weiterzählen

6, 12, 18, 24, 30, 36, 42, 48, 54, 60
7, 14, 21, 28, 35, 42, 49, 56, 63, 70
8, 16, 24, 32, 40, 48, 56, 64, 72, 80
9, 18, 27, 36, 45, 54, 63, 72, 81, 90

Kleine Vielfache

5 | 4 | 6 | 6

Die 10er-Reihe

10 | 20 | 30 | 40 | 50 | 60 | 70 | 80 | 90 | 100 | 40 | 80 | 50
70 | 30

Große Mal-Tabelle

[2, 4, 6, 8, 10], [3, 6, 9, 12, 15], [4, 8, 12, 16, 20], [5, 10, 15,
20, 25], [10, 20, 30, 40, 50]

Solutions · Grade 2

Große Mal-Tabelle umgekehrt

[2, 3, 5]

Reihen gemischt

6,9,12,15,18,21,24,27,30,33,36,39,42
10,15,20,25,30,35,40,45,50,55,60,65,70
14,21,28,35,42,49,56,63,70,77,84,91,98
18,27,36,45,54,63,72,81,90,99
8,12,16,20,24,28,32,36,40,44,48,52,56

Knifflige Tauschaufgaben

48 | 63 | 72 | 56 | 54 | 42 | 64 | 49

Was fehlt?

3 | 7 | 5 | 9 | 2 | 10 | 4 | 8 | 6 | 1

Große Vielfache

9 | 9 | 9 | 9

Mal als Punktefeld

6 | 12 | 10 | 12

Einfache Division

5 | 2 | 6 | 4 | 3 | 3 | 4 | 9 | 5 | 4 | 5 | 7

Kernaufgaben mit der 5er-Reihe

24,20,4,24 | 28,20,8,28 | 48,40,8,48 | 56,40,16,56
36,30,6,36 | 42,30,12,42

Spinnenrad - Mal

12,8,24,9 | 4,35,8,45 | 16,3,40,7

Mal-Geschichten

- 1) 24
- 2) 24
- 3) 35
- 4) 20
- 5) 16

Die 3er-Reihe

3 | 6 | 9 | 12 | 15 | 18 | 21 | 24 | 27 | 30 | 12 | 24 | 6 | 30 | 15

Größere Punktefelder

20 | 18 | 20 | 24

Mehr Division

8 | 6 | 9 | 7 | 6 | 8 | 7 | 9 | 6 | 8 | 7 | 9

Teilen mit Rest

4,2 | 4,2 | 4,1 | 4,5 | 9,1 | 4,1 | 6,1 | 4,3

Spinnenrad - Geteilt

8,8,6,6 | 4,4,6,12 | 10,4,4,10

Mehr Kernaufgaben

48,30,18,48 | 36,20,16,36 | 56,35,21,56 | 54,30,24,54
64,40,24,64 | 72,40,32,72

Geteilt-Geschichten

- 1) 6
- 2) 7
- 3) 8
- 4) 9
- 5) 10

Die 4er-Reihe

4 | 8 | 12 | 16 | 20 | 24 | 28 | 32 | 36 | 40 | 28 | 12 | 36 | 4
24

Bis 7 mal 7

25 | 36 | 28 | 35

Geteilt im Einmaleins

8 | 7 | 9 | 8 | 7 | 9 | 8 | 9 | 8 | 9 | 10 | 10

Teilen mit Rest

7,2 | 6,4 | 7,3 | 3,1 | 10,1 | 9,2 | 8,5 | 7,5

Umkehraufgaben zum Einmaleins

6,4 | 7,3 | 8,5 | 9,6 | 4,9 | 7,8 | 6,9 | 8,8 | 9,7

Die 6er-Reihe

6 | 12 | 18 | 24 | 30 | 36 | 42 | 48 | 54 | 60 | 18 | 54 | 30 | 6
48

Die 7er-Reihe

7 | 14 | 21 | 28 | 35 | 42 | 49 | 56 | 63 | 70 | 28 | 70 | 14 | 49
35

Die 8er-Reihe

8 | 16 | 24 | 32 | 40 | 48 | 56 | 64 | 72 | 80 | 40 | 16 | 56 | 8
72

Die 9er-Reihe

9 | 18 | 27 | 36 | 45 | 54 | 63 | 72 | 81 | 90 | 54 | 27 | 90 | 36
72

Gemischtes Einmaleins

21 | 32 | 54 | 35 | 72 | 24 | 56 | 45 | 48 | 36 | 42 | 72

Würfel malnehmen

12 | 12 | 25 | 12 | 12 | 36 | 5 | 9 | 20 | 4 | 24 | 20 | 18 | 10 | 6
18

Quadratzahlen

1 | 4 | 9 | 16 | 25 | 36 | 49 | 64 | 81 | 100

Boss-Level Einmaleins

12,28,40 | 18,42,60 | 14,22,50,86 | 21,21,60,90

Gemischt

Plus und Minus gemischt

59 | 47 | 79 | 47 | 79 | 54 | 83 | 35

Bunter Blütenmix

12,16,20,24,28,32,36,40,44 | 14,21,28,35,42,49,56,63,70
9,18,27,36,45,54,63,72,81

Wilde Blüten

12,18,24,30,36,42,48,54,60 | 8,16,24,32,40,48,56,64,72
73,76,79,82,85,88,91,94,97

Buntes Blumenbeet

18,27,36,45,54,63,72,81,90 | 16,24,32,40,48,56,64,72,80
5,10,15,20,25,30,35,40,45

Blumenwiese

7,14,21,28,35,42,49,56,63 | 46,52,58,64,70,76,82,88,94
8,12,16,20,24,28,32,36,40

Plus und Minus gemischt

95 | 18 | 58 | 56 | 74 | 39 | 48 | 72

Tausch-Trick beim Plus

69 | 62 | 94 | 81 | 93 | 53 | 43 | 81

Zerlege in Zehner und Einer

3 | 50 | 8 | 80 | 7 | 90 | 3 | 50 | 2 | 70

Nimm die Zahl mehrmals

2 | 3 | 4 | 5

Von klein nach groß

16<70<78 | 57<70<97 | 82<90<97 | 77<82<97

Blumenwiese

23,31,39,47,55,63,71,79,87 | 18,27,36,45,54,63,72,81,90
47,50,53,56,59,62,65,68,71

Solutions · Grade 2

Vertausche die Summanden

71 | 53 | 54 | 32 | 91 | 90 | 90 | 68

Plus, Minus, fertig

80 | 37 | 70 | 28 | 96 | 12 | 80 | 18

Zerlege in Zehner und Einer

1 | 30 | 4 | 20 | 8 | 40 | 6 | 40 | 8 | 70

Nimm die Zahl mehrmals

2 | 3 | 4 | 5

Von klein nach groß

35<90<98 | 35<50<98 | 35<50<90 | 15<35<90

Dreh die Aufgabe um

26,11 | 54,18 | 37,26 | 50,27 | 45,25 | 39,14 | 28,35 | 43,32
34,14

Vorgänger und Nachfolger

16 | 68 | 88 | 17 | 63 | 60 | 83 | 23 | 76 | 92 | 48 | 74

Rechne kunterbunt

68 | 37 | 48 | 46 | 72 | 84 | 60 | 42

Tauschaufgaben beim Plusrechnen

57 | 38 | 59 | 96 | 65 | 74 | 31 | 95

Zehner und Einer trennen

1 | 40 | 5 | 60 | 8 | 40 | 2 | 10 | 1 | 50

Zähle in Schritten

2 | 3 | 4 | 5

Plus und die Umkehrung

20,18 | 21,34 | 62,31 | 30,25 | 32,13 | 56,26 | 66,12 | 33,20
27,11

Der fehlende Nachbar

46 | 66 | 86 | 83 | 57 | 77 | 91 | 16 | 84 | 48 | 34 | 51

Reihe nach Größe

20<42<49 | 20<21<49 | 21<34<42 | 34<42<49

Tauschaufgaben beim Plusrechnen

45 | 77 | 48 | 68 | 72 | 39 | 70 | 49

Nimm die Zahl mehrmals

2 | 3 | 4 | 5

Zahlen zerlegen

7 | 60 | 9 | 60 | 6 | 90 | 4 | 40 | 5 | 70

Noch mehr Übungen

Plus bis 100

48 | 95 | 74 | 45 | 64 | 91 | 94 | 61

Wilde Blüten

26,33,40,47,54,61,68,75,82 | 35,37,39,41,43,45,47,49,51
31,39,47,55,63,71,79,87,95

Tauschen leicht gemacht

41 | 48 | 85 | 80 | 59 | 62 | 61 | 49

Zehner und Einer finden

3 | 40 | 4 | 30 | 2 | 10 | 7 | 40 | 1 | 10

Zähle zusammen

53 | 64 | 45 | 76 | 80 | 90 | 89 | 44

Blütenzauber

45,48,51,54,57,60,63,66,69 | 24,29,34,39,44,49,54,59,64
18,25,32,39,46,53,60,67,74

Die Reihe als Plus

2 | 3 | 4 | 5

Ordne der Größe nach

13<40<81 | 13<77<81 | 13<44<77 | 13<40<77

Vom Plus zum Minus

52,17 | 34,11 | 25,26 | 61,18 | 47,25 | 16,23 | 40,33 | 43,12
30,24

Zahlen-Nachbarn ergänzen

16 | 93 | 14 | 76 | 74 | 85 | 49 | 29 | 49 | 38 | 16 | 38

Zähle zusammen

49 | 68 | 59 | 78 | 32 | 48 | 74 | 91

Blütenzauber

24,26,28,30,32,34,36,38,40 | 9,16,23,30,37,44,51,58,65
35,43,51,59,67,75,83,91,99

Tauschaufgaben beim Plusrechnen

60 | 74 | 48 | 94 | 43 | 90 | 99 | 66

Nimm die Zahl mehrmals

2 | 3 | 4 | 5

Rechne minus

40 | 48 | 33 | 34 | 51 | 49 | 72 | 15

Blumenwiese

31,37,43,49,55,61,67,73,79 | 16,25,34,43,52,61,70,79,88
59,64,69,74,79,84,89,94,99

Trage Zehner oder Einer ein

4 | 90 | 8 | 40 | 4 | 40 | 4 | 50 | 1 | 50

Reihe nach Größe

14<87<90 | 49<74<87 | 31<49<74 | 31<74<87

Vom Plus zum Minus

26,18 | 35,22 | 26,22 | 61,25 | 69,28 | 67,27 | 56,25 | 38,24
32,20

Zahlen-Nachbarn ergänzen

72 | 42 | 34 | 24 | 75 | 16 | 90 | 52 | 65 | 53 | 61 | 39

Rechne minus

17 | 50 | 78 | 41 | 52 | 23 | 24 | 66

Plus von beiden Seiten

77 | 64 | 78 | 56 | 75 | 53 | 97 | 86

Trage Zehner oder Einer ein

7 | 10 | 5 | 40 | 8 | 70 | 9 | 10 | 8 | 40

Schritt für Schritt

2 | 3 | 4 | 5

Minus bis 100

35 | 44 | 54 | 69 | 14 | 22 | 70 | 53

Dreh die Plusaufgabe um

60 | 51 | 48 | 67 | 85 | 56 | 75 | 61

Zahlen zerlegen

6 | 60 | 4 | 70 | 1 | 70 | 6 | 90 | 2 | 20

Sortiere die Zahlen

60<69<72 | 60<66<72 | 60<66<67 | 60<66<96

Vom Plus zum Minus

20,22 | 23,29 | 32,28 | 46,33 | 36,17 | 49,35 | 65,23 | 39,19
58,24

Zahlen-Nachbarn ergänzen

93 | 34 | 89 | 92 | 62 | 95 | 95 | 25 | 59 | 70 | 68 | 54