

Lösungen · Klasse 1

So liest du die Lösungen

Die Lösungen sind nach Buchseite geordnet; jede Aufgabe steht unter ihrem Titel aus dem Buch. Gelesen wird in Leserichtung: von links nach rechts und von oben nach unten, Zeile für Zeile (mehrere Werte mit | getrennt). Bei Bild-Aufgaben wie Golem und Drache zeigt eine kleine Skizze, wo welche Zahl hingehört; die ausgerechneten Felder sind hervorgehoben.

Seite 8

Schreibe die Zahlen 0 bis 5

0 | 1 | 2 | 3 | 4 | 5

Seite 9

Formen zählen bis 3

3, 2 | 2, 3 | 2, 3

Punkte zählen und malen bis 3

2 | 1 | 3 | 3 | 2 | 2 | 1 | 2 | 1 | 3 | 2 | 1

Würfel ablesen bis 3

3 | 1 | 2 | 1 | 3 | 1 | 2 | 3 | 2 | 1 | 2 | 3 | 1 | 3 | 2 | 1 | 2 | 3 | 1
3

Plus bis 3 - Rechne aus!

1 | 2 | 3 | 1 | 2 | 3 | 2 | 3 | 3 | 3 | 2 | 3 | 1 | 3 | 1 | 2

Seite 10

Fehlende Zahlen am Zahlenstrahl

0 (1) (2) 3 (4) 5 | 1 (2) 3 (4) 5 | 2 (3) (4) 5 | 0 (1) 2 (3) 4 (5)
(1) 2 (3) 4 (5) | (2) 3 4 (5)

Plus mit Bildern bis 4

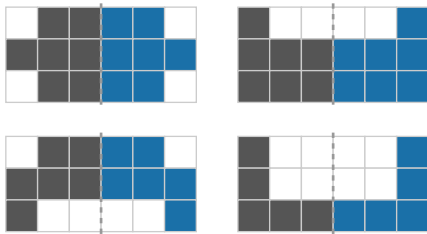
4 | 3 | 4 | 3 | 4 | 4 | 3 | 4

Würfel ablesen

1 | 2 | 3 | 4 | 5 | 2 | 1 | 4 | 5 | 3 | 3 | 4 | 5 | 1 | 2 | 4 | 5 | 2 | 3
1

Seite 11

Male die Spiegelbilder fertig



Zähle und male!

2 | 4 | 1 | 5 | 3 | 2 | 4 | 1 | 5 | 3 | 2 | 4

Plus mit Bildern bis 5

5 | 5 | 5 | 5 | 4 | 4 | 5 | 4

Seite 12

Plus mit dem Frühstück

3 | 5 | 4 | 4 | 3 | 5 | 4 | 5

Plus - Rechne aus!

2 | 5 | 3 | 4 | 4 | 4 | 5 | 5 | 5 | 5 | 5 | 3 | 3 | 4 | 4 | 3

Rechne die Blüten in Pfeilrichtung aus

0,1,2,3,4 | 1,2,3,4,5 | 2,3,0,1

Ergänze jedes Stockwerk zur Zahl im Dach

1+4 3+2 0+5 2+3 | 2+1 1+2 3+0 0+3 | 1+2 3+0 0+3 2+1
1+3 2+2 3+1 3+1 | 3+2 1+4 2+3 3+2 | 4+0 2+2 0+4 1+3
1+2 2+1 0+3 3+0

Seite 13

Ergänze die fehlenden Zahlen!

0 (1) 2 (3) | (1) 2 (3) 4 | 2 (3) 4 (5) | (0) 1 (2) 3 | 1 (2) 3 (4)
(2) 3 (4) 5 | 0 1 (2) (3) | 1 (2) (3) 4 | 2 (3) (4) 5 | (0) (1) 2 3
(1) (2) 3 4 | (2) (3) 4 5

Nachbarzahlen finden

0,2 | 1,3 | 2,4 | 3,5 | 2 | 4 | 3 | 0,2 | 1,3 | 3,5 | 0,2 | 2,4

Seite 14

Drei Gruppen zusammenzählen

5 | 4 | 5 | 4 | 5 | 4 | 5 | 5

Plus - Übe weiter!

3 | 4 | 4 | 4 | 5 | 5 | 5 | 5 | 5 | 5 | 5

Punkte zählen und malen!

3 | 1 | 2 | 4 | 2 | 5 | 1 | 3 | 5 | 2 | 4 | 1

Wie geht das Muster weiter?

kg, qb | do, kg | qr, kl | db, db, ko

Seite 15

Finde die zwei passenden Karten

1+2 | 1+3 | 2+3 | 1+3 | 1+1 | 2+2 | 1+4 | 2+1

Finde die fehlenden Zahlen in den Quadraten

1, 1 | 1, 2 | 0, 2 | 1, 4 | 2, 2 | 1, 1 | 5, 2 | 3, 2 | 4, 0 | 3, 1

Plus mit drei Gruppen

3 | 4 | 4 | 4 | 5 | 5 | 5 | 5

Zwei Würfel - Plus

2 | 5 | 4 | 3 | 5 | 3 | 5 | 5 | 4 | 4 | 5 | 5

Seite 16

Minus mit Bildern bis 5

2 | 2 | 2 | 3

Zerlege die Zahlen!

1 | 1 | 2 | 2 | 1 | 2 | 2 | 1 | 3 | 1

Zähle die Türme und rechne zusammen

2,1,3 | 3,2,5 | 1,3,4 | 2,2,4 | 1,2,3 | 3,1,4 | 1,1,2 | 2,3,5
1,4,5

Seite 17

Lieblingsobst der Klasse

4 | 5 | 2 | 3 | Banane

Minus - Übe weiter

3 | 2 | 4 | 2 | 1 | 3 | 1 | 2 | 1 | 1 | 4 | 5 | 3 | 2 | 1 | 0

Karten zusammenzählen

2 | 3 | 4 | 4 | 4 | 5 | 4 | 5 | 5 | 5 | 5 | 3 | 3 | 4 | 5 | 3

Lösungen · Klasse 1

Seite 18

Ergänze die Zahlenhäuser

1+2 2+1 0+3 3+0 | 1+3 2+2 3+1 4+0 | 2+3 1+4 1+4 0+5
4+0 2+2 3+1 1+3 | 0+3 1+2 2+1 3+0 | 3+2 4+1 5+0 1+4
0+3 1+2 2+1 3+0

Was fehlt?

2 | 2 | 2 | 3 | 3 | 4 | 2 | 5 | 3 | 2 | 1 | 1 | 4 | 3 | 4 | 5

Zwei Würfel - Minus

1 | 2 | 1 | 3 | 2 | 1 | 4 | 3 | 2 | 1 | 2 | 2

Zerlege weiter

1 | 3 | 2 | 1 | 4 | 2 | 1 | 3 | 1 | 3

Seite 19

Rechne die Raupen Schritt für Schritt aus

5 | 4 | 2 | 3 | 5 | 3 | 4 | 2 | 4 | 1 | 4 | 3 | 1 | 5 | 1

Zwei Steine ergeben den Stein darüber

3 | 3 | 4 | 3 | 4 | 4 | 4 | 4 | 5 | 5 | 5 | 5 | 5 | 5 | 2 | 3

Wieder zerlegen

0 | 2 | 4 | 0 | 5 | 0 | 4 | 0 | 0 | 2

Seite 20

Formen fortsetzen

kr, kb | dr, kg | qo, dl | kg, qq

Ergänze die Zahlenhäuser

3+0 1+2 1+2 0+3 | 0+4 1+3 4+0 2+2 | 0+5 3+2 1+4 2+3
3+2 5+0 2+3 1+4 | 0+3 1+2 2+1 3+0 | 3+1 2+2 0+4 1+3
2+1 0+3 1+2 3+0

Sechs Steine

2,3,5 | 3,2,5 | 2,3,5 | 4,1,5 | 3,2,5 | 1,4,5 | 4,1,5 | 1,4,5
3,2,5

Seite 21

Rechne die Raupen aus

5 | 3 | 0 | 4 | 5 | 5 | 1 | 1 | 2 | 5 | 5 | 3 | 4 | 3 | 5

Wie viele bleiben übrig?

2 | 1 | 1 | 3

Plus und Minus gemischt!

3 | 4 | 3 | 2 | 2 | 1 | 4 | 3 | 4 | 2 | 4 | 5

Rechne plus von der Spinne nach außen

2,2,4,4 | 1,5,2,2 | 1,2,3,4

Seite 22

Was fehlt? Mehr Lücken

1 | 2 | 5 | 2 | 3 | 2 | 3 | 1 | 4 | 1 | 1 | 3 | 4 | 4 | 5 | 4

Rechne minus von der Spinne nach außen

4,2,2,4 | 3,3,1,1 | 3,2,1,4

Einfache Quadrate

1,0 | 0,1 | 3,2 | 2,1 | 1,2 | 2,3 | 3,1 | 2,1 | 4,0 | 1,3

Was kostet das zusammen?

- 1) 3
- 2) 3
- 3) 2
- 4) 4

Seite 23

Vergleiche die Zahlen

< | > | = | > | < | < | = | > | > | > | = | < | > | = | < | > | = | < | >
<

Ordne von klein nach groß

1<2<3<4 | 2<3<4<5 | 1<2<4<5 | 1<3<4<5

Seite 25

Boss-Level Zahlenraum 5

Blatt - Spinne = 3

Seite 28

Zahlen 6 bis 10

6 | 7 | 8 | 9 | 10

Seite 29

Rechne die Blüten aus

8,9,1,2,3,4,5,6,7 | 6,7,8,0,1,2,3,4,5 | 4,5,6,7,8,9,0,2,3

Hoch- und runterzählen

10 | 7 | 10 | 5 | 8 | 5 | 8 | 6

Drei Zahlen fehlen

(6) (7) (8) 9 | 7 (8) (9) (10) | (5) (6) (7) 8 | 6 (7) (8) (9)
(7) (8) (9) 10 | 4 (5) (6) (7) | (5) 6 (7) (8) | (6) (7) 8 (9)
(7) 8 (9) (10) | (4) (5) 6 (7) | (6) 7 (8) (9) | (7) (8) 9 (10)

Seite 30

Punkte zählen und malen

3 | 7 | 5 | 1 | 9 | 6 | 8 | 10

Setze die Zahlenmuster fort

5,10 | 2,4,6 | 10,8,6 | 7,7,3

Ergänze die fehlenden Zahlen!

0 (1) 2 (3) 4 (5) | (5) 6 (7) 8 (9) 10 | 2 (3) (4) 5 (6) 7
(3) 4 (5) (6) 7 (8) | 0 1 (2) 3 (4) (5) | (4) 5 (6) 7 (8) 9

Seite 31

Finde die Nachbarn!

2,4 | 6,8 | 4,6 | 8,10 | 1,3 | 5,7 | 3,5 | 7,9 | 0,2 | 1,3 | 7,9
4,6

Zähle die dunklen Punkte - oder male sie!

4 | 7 | 2 | 6 | 8 | 3 | 9 | 10

Jetzt die Blume in Zweierschritten

2,4,6,8 | 2,4,6,8,10 | 3,5,7,9

Seite 32

Muster weiterführen

2,3 | 2,1,3 | 5,4,5,6 | 3,1,2,2

Zähle in Sprüngen

7 | 4 | 10 | 1 | 9 | 3 | 8 | 2 | 8 | 2 | 9 | 0

Ergänze bis 10

9 | 7 | 5 | 3 | 1 | 8 | 6 | 4 | 2 | 9 | 7 | 3

Zerlege die Zahlen!

9 | 7 | 5 | 6 | 5 | 4 | 7 | 6 | 5 | 4

Lösungen · Klasse 1

Seite 33

Ergänze die Zahlenhäuser

3+4 5+2 6+1 7+0 | 3+5 2+6 7+1 4+4 | 4+5 2+7 3+6 9+0
4+6 3+7 2+8 5+5 | 0+3 1+2 2+1 3+0 | 2+4 3+3 5+1 6+0
3+4 1+6 2+5 6+1

Zweierschritte in der Blume

5,7,9 | 1,3,5,7 | 6,8,10

Rechne die Raupen aus

8 | 5 | 5 | 9 | 10 | 8 | 6 | 5 | 10 | 4 | 5 | 7 | 5 | 8 | 10

Was steht vorne?

8 | 6 | 4 | 2 | 9 | 7 | 5 | 3 | 1 | 3 | 2 | 4

Seite 34

Spinnenrad bis 10

8,5,6,7 | 2,7,9,1 | 2,8,4,10

Zahlen zerlegen!

5 | 4 | 3 | 8 | 7 | 6 | 9 | 8 | 7 | 6

Von Plus zu Minus

3,4 | 2,6 | 5,2 | 1,9 | 4,3 | 5,5 | 4,5 | 3,6 | 2,8

Seite 35

Drei Zahlen - Plus!

6 | 9 | 5 | 10 | 8 | 7 | 9 | 6 | 7 | 10 | 8 | 5

Länger und kürzer

B | B | A | B

Hat sich Euli verrechnet?

3 | 3 | 4 | 3 | 5 | 2 | 5 | 2

Seite 36

Karten zusammenzählen

7 | 7 | 8 | 9 | 9 | 9 | 9 | 10 | 3 | 5 | 6 | 8 | 10 | 10 | 10 | 10

Rechne beide Seiten aus!

5 | 5 | 10 | 9 | 8 | 9 | 7 | 10

Einfache Minusaufgaben

7 | 7 | 4 | 2 | 5 | 1 | 1 | 8 | 4 | 3 | 5 | 3

Muster weiterführen

1,2,4,3 | 6,4,5,3 | 3,1 | 4,4,2,1

Seite 37

Zähle in Schritten

6 | 10 | 4 | 1 | 7 | 9 | 3 | 0

Baue die Mauer auf!

4,5,9 | 3,5,8 | 5,3,8 | 5,4,9 | 4,5,9 | 3,7,10 | 5,3,8 | 4,5,9
6,3,9

Endspurt: Zahlzerlegung

3 | 2 | 2 | 3 | 5 | 5 | 4 | 3 | 2 | 3

Seite 38

Minus - Rechne aus!

6 | 2 | 4 | 7 | 6 | 7 | 3 | 3 | 8 | 5 | 2 | 6 | 4 | 5 | 4 | 8

Finde den richtigen Weg!

2+3+2=7 | 2+5+1=8 | 2+4+3=9 | 6+2+2=10 | 3+4+1=8
3+5+2=10

Rechne die Blüten aus

4,0,1,2,3 | 1,2,3,4,5 | 0,1,2,3,4

Seite 39

Gerade oder Ungerade

4:J 7:N 6:J 9:N 3:N 8:J 5:N 10:J

Lieblingswetter der Kinder

5 | 3 | 8 | 6 | Sonne

Karten zusammenzählen

10 | 9 | 10 | 10 | 10 | 10 | 9 | 8 | 9 | 8 | 9 | 9 | 10 | 10 | 10 | 10

Seite 40

Volle Stunden bis 5

1:00 | 2:00 | 3:00 | 4:00 | 5:00 | 2:00 | 3:00 | 1:00 | 4:00
5:00 | 2:00 | 3:00

Münzen zählen

2€ | 3€ | 4€ | 3€ | 4€ | 5€ | 4€ | 5€ | 3€ | 5€ | 5€ | 4€

Seite 41

Zahlen-Zauber

3 | 5

Drachen-Rechnen

$$\begin{array}{|c|} \hline 1 \\ \hline \end{array} + \begin{array}{|c|} \hline 1 \\ \hline \end{array} + \begin{array}{|c|} \hline 2 \\ \hline \end{array} + \begin{array}{|c|} \hline 1 \\ \hline \end{array} + \begin{array}{|c|} \hline 1 \\ \hline \end{array} = \begin{array}{|c|} \hline 6 \\ \hline \end{array}$$

Füße Schwanz Körper

$$\begin{array}{|c|} \hline 6 \\ \hline \end{array} + \begin{array}{|c|} \hline 3 \\ \hline \end{array} = \begin{array}{|c|} \hline 9 \\ \hline \end{array}$$

Körper Hals Feuer

$$\begin{array}{|c|} \hline 2 \\ \hline \end{array} + \begin{array}{|c|} \hline 2 \\ \hline \end{array} + \begin{array}{|c|} \hline 1 \\ \hline \end{array} + \begin{array}{|c|} \hline 1 \\ \hline \end{array} + \begin{array}{|c|} \hline 1 \\ \hline \end{array} = \begin{array}{|c|} \hline 7 \\ \hline \end{array}$$

Füße Schwanz Körper

$$\begin{array}{|c|} \hline 7 \\ \hline \end{array} + \begin{array}{|c|} \hline 3 \\ \hline \end{array} = \begin{array}{|c|} \hline 10 \\ \hline \end{array}$$

Körper Hals Feuer

Seite 42

Weiter mit den Mauern!

4,4,8 | 5,5,10 | 4,3,7 | 5,4,9 | 6,2,8 | 3,7,10 | 6,3,9 | 3,6,9
4,6,10

Plus und Minus mit Türmen

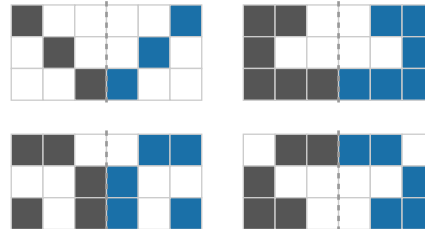
6,3,9 | 9,4,5 | 8,1,9 | 9,2,7 | 2,6,8 | 8,7,1 | 5,3,8 | 9,5,4
4,2,6

Seite 43

Volle Stunden bis 10

4:00 | 6:00 | 8:00 | 10:00 | 2:00 | 7:00 | 3:00 | 5:00 | 9:00
1:00 | 4:00 | 10:00

Male das Spiegelbild fertig



Lösungen · Klasse 1

Seite 54

Türme abbauen

8,3,5 | 7,4,3 | 8,6,2 | 8,5,3 | 6,2,4 | 8,4,4 | 7,2,5 | 7,3,4
7,5,2

Von Minus zu Plus

9,9 | 8,8 | 7,7 | 10,10 | 6,6 | 8,8 | 9,9 | 10,10 | 7,7

Seite 55

Alle Zutaten finden

7,5,9,5,6 | 5,7,4,9,7 | 7,6,9,5,6

Halbiere die Zahl!

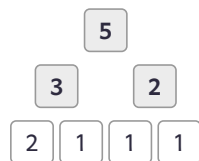
2 | 3 | 4 | 5 | 4 | 5 | 1 | 3 | 1 | 2 | 5 | 4 | 5 | 4 | 3 | 2

Hat sich Euli verrechnet?

7 | 4 | 8 | 6 | 8 | 5 | 9 | 1

Seite 56

Addiere immer zwei Zahlen zur Zahl darüber



Was kostet das zusammen?

- 1) 3
- 2) 4
- 3) 3
- 4) 5

Rechne die Raupen aus

3 | 4 | 3 | 2 | 5 | 4 | 1 | 4 | 5 | 1 | 1 | 3 | 4 | 2 | 5

Noch eine Plus-Tabelle

[3, 4, 5], [2, 3, 4], [1, 2, 3], [0, 1, 2]
[1, 2, 3], [0, 1, 2], [3, 4, 5], [2, 3, 4]
[2, 3, 4], [3, 4, 5], [0, 1, 2], [1, 2, 3]

Seite 57

Gerecht teilen

5 | 4 | 3 | 2 | 1 | 5 | 2

Spinnenrad

3,8,7,4 | 10,3,8,6 | 2,7,4,9

An der Wäscheleine

10 | 9 | 6 | 8

Seite 58

Finde den richtigen Weg!

1+5+4=10 | 0+2+6=8 | 1+2+3=6 | 5+3+1=9 | 3+1+2=6
5+2+3=10

Der Weg ist jetzt länger

- 1) A1, B1, B2, C2, C3, D3, D4, E4, E5, F5, F6, G6
- 2) G1, G2, G3, F3, F2, E2, E3, E4, D4, C4, C5, B5, B6, B7

Seite 59

Fülle die Plus-Tabellen bis 10 aus

[6, 7, 8], [5, 6, 7], [7, 8, 9], [1, 2, 3]
[3, 5, 7], [1, 3, 5], [5, 7, 9], [6, 8, 10]
[6, 7, 5], [9, 10, 8], [2, 3, 1], [4, 5, 3]

Wie viele Bälle hat jedes Kind?

6 | 2 | 5 | 3 | 4 | 1 | 7 | 8

Pfeilrechnen

+2,+1,+2,-5,+3 | +1,+2,+1,-4,+3 | +3,+2,+3,-8,+5
+2,+3,+2,-7,+5 | +1,+3,+1,-5,+4 | +3,+1,+3,-7,+4

Seite 60

Finde alle Zutaten

4,6,5,9,8 | 5,8,6,8,7 | 4,7,6,8,7

Wie viel bleibt übrig?

4 | 2 | 3 | 2 | 1 | 4 | 1 | 1 | 3 | 3 | 2 | 5

Domino ergänzen

3 + 4 = 7 | 2 + 4 = 6 | 4 + 5 = 9 | 1 + 4 = 5 | 5 + 3 = 8
2 + 6 = 8 | 4 + 3 = 7 | 1 + 5 = 6

Wähle die richtigen Karten

5+3 | 4+6 | 4+2 | 3+6 | 3+5 | 3+2 | 7+2 | 7+3

Seite 61

Gerade oder Ungerade

7:N 2:J 10:J 3:N 8:J 5:N 1:N 6:J

Vergleiche die Rechnungen

= | > | = | < | < | = | > | = | = | > | > | <

Domino bis 10

2 + 4 = 6 | 5 + 1 = 6 | 3 + 5 = 8 | 0 + 5 = 5 | 4 + 4 = 8
2 + 5 = 7

Eine Seite fehlt!

2 | 3 | 2 | 3 | 2 | 2 | 3 | 5 | 4 | 3

Seite 62

Entkomme dem Dungeon!

2,3,4,2 | 0,4,3,1 | 1,5,4,2 | 0,5,4,3

Noch eine Golem-Pyramide



Wie geht es weiter?

4 | 5 | 1 | 0 | 4 | 5 | 0 | 2

Lösungen · Klasse 1

Seite 73

Wie oft passt die Zahl?

2 | 5 | 3 | 4

Zahlenmuster

8,10 | 2,0 | 10 | 2,1,0

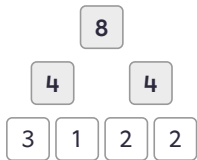
Ergänze die Zahlehäuser

5+3 1+7 2+6 0+8 | 5+4 6+3 9+0 2+7 | 7+3 8+2 5+5 1+9

5+1 4+2 3+3 0+6 | 2+5 3+4 7+0 6+1 | 3+2 1+4 0+5 2+3

8+1 8+1 3+6 4+5

Addiere in der Golem-Pyramide



Seite 74

Entkomme dem Dungeon!

0,6,9,7,8,4,1,6,3,5 | 9,7,5,2,4,5,6,3,4,9

Knifflige Mauern!

3,4,6 | 3,7,3 | 1,3,5 | 3,6,4 | 3,4,4 | 2,7,3 | 2,4,4 | 2,5,5
2,2,6

Seite 75

Wie viele sind zusammen in den Behältern?

7 | 9 | 9 | 10 | 6 | 8

Quadrate bis 10

3,3 | 2,3 | 4,2 | 6,1 | 5,2 | 4,2 | 6,3 | 1,5 | 2,3 | 4,2

Fülle die Plus-Tabellen aus

[5, 6, 7], [7, 8, 9], [3, 4, 5], [1, 2, 3]

[5, 6, 7], [7, 8, 9], [3, 4, 5], [2, 3, 4]

[5, 7, 9], [3, 5, 7], [6, 8, 10], [0, 2, 4]

Seite 76

Vervielfachen

6 | 1 | 2 | 9

Was kostet das zusammen?

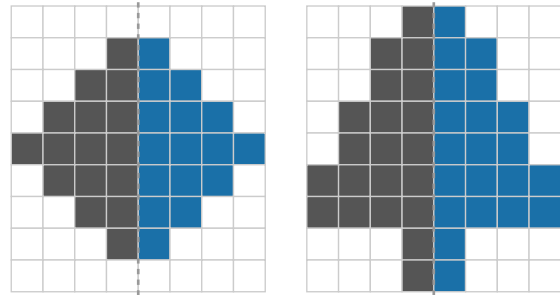
1) 7

2) 10

3) 9

4) 7

Male das Spiegelbild fertig



Seite 77

Knifflige Quadrate bis 10

5,4,5 | 3,4,5 | 2,6,3 | 4,2,1 | 4,2,5 | 6,3,4 | 3,5,4 | 1,3,2
3,2,5 | 0,2,0

Wie viele Zutaten braucht der Zaubertrank?

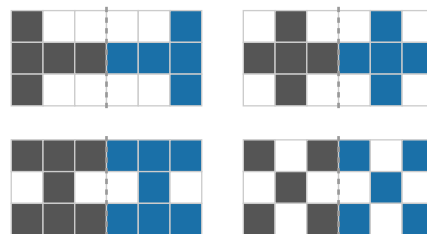
8 | 8 | 9 | 7 | 8 | 9 | 8 | 9

Formenmuster

dg | dg,dg,kg,kl | kr | qg,kr,kg,kr

Seite 78

Male das Spiegelbild fertig



Welcher Würfel passt?

2 | 1 | 4 | 3 | 5 | 1 | 2 | 6 | 4 | 6 | 3 | 5 | 1 | 4 | 6 | 2

Einfache Quadrate

1,0 | 2,1 | 2,2 | 2,2 | 3,2 | 0,4 | 3,1 | 2,1 | 4,0 | 2,2

Seite 79

Der Zauberstab-Code

8 | 6 | 8 | 8 | 3 | 1 | 5 | 9 | 2

Zahlen-Zauber

1 | 2

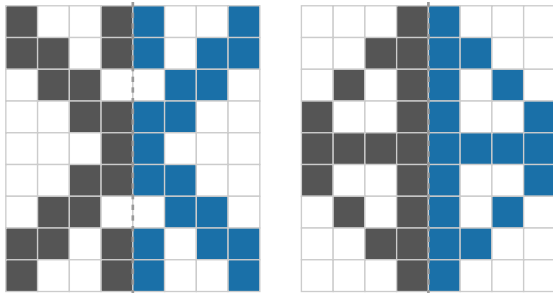
Welcher Würfel passt?

3 | 1 | 5 | 2 | 6 | 4 | 5 | 2 | 5 | 1 | 3 | 6 | 4 | 2 | 1 | 6 | 3 | 5 | 4
6

Lösungen · Klasse 1

Seite 80

Male das schwere Spiegelbild fertig

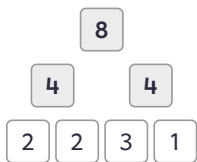
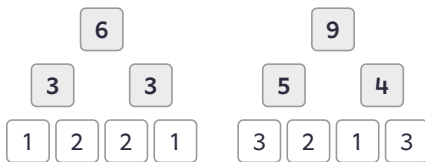


Finde den Weg!

9,10,7,6,0,3,5,2,7,8 | 5,8,7,2,6,0,1,3,8,4,9

Seite 81

Addiere in der Golem-Pyramide



Drachen-Rechnen

$$\begin{array}{|c|c|c|c|} \hline 3 & 1 & 2 & 1 \\ \hline \end{array} + \begin{array}{|c|} \hline 1 \\ \hline \end{array} = \begin{array}{|c|} \hline 8 \\ \hline \end{array}$$

Füße Schwanz Körper

$$\begin{array}{|c|} \hline 8 \\ \hline \end{array} + \begin{array}{|c|} \hline 2 \\ \hline \end{array} = \begin{array}{|c|} \hline 10 \\ \hline \end{array}$$

Körper Hals Feuer

$$\begin{array}{|c|c|c|c|} \hline 2 & 0 & 3 & 1 \\ \hline \end{array} + \begin{array}{|c|} \hline 2 \\ \hline \end{array} = \begin{array}{|c|} \hline 8 \\ \hline \end{array}$$

Füße Schwanz Körper

$$\begin{array}{|c|} \hline 8 \\ \hline \end{array} + \begin{array}{|c|} \hline 2 \\ \hline \end{array} = \begin{array}{|c|} \hline 10 \\ \hline \end{array}$$

Körper Hals Feuer

Zwei Würfel - Welche Summe?

2 + 3 = 5 | 6 + 2 = 8 | 4 + 5 = 9 | 3 + 4 = 7 | 1 + 5 = 6
 5 + 5 = 10 | 1 + 3 = 4 | 1 + 2 = 3 | 6 + 4 = 10 | 2 + 5 = 7
 3 + 6 = 9 | 4 + 1 = 5

Seite 83

Boss-Level Zahlenraum 10

Oben links: 2 + 1 + 2 + 1 = 6
 Oben rechts: 3 + 3 + 1 + 1 + 2 = 10 | Mitte links: 3 + 4 + 2 = 9
 Mitte rechts: 2 + 1 + 1 + 1 + 2 = 7 ← magische 7!
 Unten: 2 + 3 + 1 + 3 + 1 = 10

Seite 86

Zahlen 11 bis 20 schreiben

11 | 12 | 13 | 14 | 15 | 16 | 17 | 18 | 19 | 20

Seite 87

Lieblingstiere im Zoo

12 | 7 | 15 | 9 | Pinguine

Zwanzigerfeld: Punkte zählen und malen

12 | 13 | 15 | 16 | 18 | 11

Finde die Nachbarn!

10,12 | 15,17 | 12,14 | 17,19 | 14,16 | 11,13 | 16,18 | 13,15
 18,20 | 15,17 | 12,14 | 17,19

Seite 88

Sortiere von klein nach groß!

1 < 2 < 4 < 5 < 8 < 9 | 1 < 2 < 3 < 6 < 7 < 10 | 2 < 4 < 5 < 6 < 8 < 9
 1 < 2 < 3 < 5 < 7 < 10

Zwanzigerfeld: weiter üben

19 | 11 | 16 | 8 | 13 | 17

Ergänze die fehlenden Zahlen!

(0) (1) (2) (3) 4 (5) 6 (7) 8 (9) 10
 (0) (1) (2) (3) (4) 5 (6) 7 (8) 9 (10)
 5 (6) (7) 8 (9) 10 (11) (12) 13 (14) 15
 10 (11) (12) (13) 14 (15) 16 (17) (18) (19) 20
 2 (3) (4) 5 (6) (7) 8 (9) 10 (11) 12
 8 (9) 10 (11) 12 (13) (14) 15 (16) (17) 18

Seite 89

Von groß nach klein

10 > 8 > 6 > 5 > 2 > 1 | 9 > 8 > 6 > 4 > 3 > 1 | 10 > 9 > 7 > 5 > 3 > 2
 9 > 8 > 6 > 4 > 3 > 1

Finde die Nachbarn!

6,7 | 8,10 | 11,12 | 14,16 | 17,18 | 5,6 | 10,11 | 7,8 | 15,17
 8,9 | 9,11 | 16,17

Seite 90

Lange Zahlenstrahlen

(0) (1) (2) (3) 4 (5) (6) (7) 8 (9) 10 (11) 12 (13) (14) 15 (16)
 (17) 18 (19) 20
 (0) (1) (2) (3) (4) 5 (6) (7) (8) (9) 10 (11) (12) (13) (14) 15 (16)
 (17) (18) (19) 20
 0 (1) 2 (3) (4) (5) 6 (7) (8) (9) 10 (11) 12 (13) (14) (15) (16) (17)
 (18) (19) 20
 0 (1) (2) 3 (4) (5) (6) 7 (8) (9) 10 (11) (12) 13 (14) (15) (16) 17
 (18) (19) 20
 (0) 1 (2) (3) 4 (5) (6) (7) 8 (9) (10) 11 (12) (13) (14) 15 (16) (17)
 (18) 19 (20)
 0 (1) 2 (3) 4 (5) (6) (7) (8) 9 (10) (11) (12) 13 (14) (15) 16 (17)
 18 (19) 20

Viele Punkte

18 | 14 | 16 | 20 | 19 | 12

Vergleiche die Zahlen

< | = | > | < | = | > | < | = | > | < | > | < | > | < | = | <

Seite 91

Zwanzigerfeld: über die Zehn rechnen

8,2,3,13 | 9,1,3,13 | 7,3,3,13 | 6,4,3,13

Lösungen · Klasse 1

Seite 92

Brücke über den Zehner - Addition

2,3,13 | 3,3,13 | 1,3,13 | 4,3,13 | 2,4,14 | 1,4,14 | 3,2,12
2,5,15

Zehnerfreunde helfen!

1,1,11 | 3,1,11 | 4,1,11 | 2,1,11 | 2,4,14 | 3,2,12 | 1,5,15
5,2,12

Zahlenmuster bis 20

18,20 | 4,2 | 17,19 | 3,1

Seite 93

Zehn und noch was

1 | 2 | 3 | 4 | 5 | 6 | 7 | 8 | 9 | 10

Über den Zehner - Addition

2,5,15 | 1,5,15 | 3,4,14 | 2,6,16 | 1,6,16 | 2,4,14 | 1,8,18
3,5,15

Wie viel ist das zusammen?

9 | 5 | 7 | 6 | 7 | 5 | 12 | 7 | 7 | 10 | 7 | 6

Gerade oder Ungerade

12:J 15:N 14:J 17:N 16:J 13:N 18:J 19:N

Seite 94

Rechne über den Zehner - Addition

2,3,13 | 1,3,13 | 3,2,12 | 4,2,12 | 2,2,12 | 1,2,12 | 3,5,15
4,3,13

Domino rechnen

4 + 6 = 10 | 5 + 5 = 10 | 6 + 6 = 12 | 5 + 6 = 11 | 7 + 7 = 14
7 + 9 = 16

Welcher Körper ist das?

Würfel | Kugel | Zylinder | Quader

Seite 95

Volle Stunden

3:00 | 7:00 | 12:00 | 5:00 | 9:00 | 1:00 | 2:00 | 8:00 | 11:00
4:00 | 6:00 | 10:00

Zahlen-Zauber

3 | 4

Seite 96

Brücke über den Zehner - Subtraktion

3,2,8 | 6,1,9 | 1,6,4 | 5,3,7 | 2,7,3 | 4,4,6 | 1,8,2 | 2,5,5

Rechne über den Zehner - Subtraktion

3,2,8 | 5,2,8 | 2,2,8 | 4,2,8 | 6,3,7 | 3,3,7 | 5,3,7 | 4,3,7

Rechne die Raupen aus

12 | 9 | 18 | 13 | 19 | 9 | 16 | 9 | 5 | 13 | 6 | 12 | 15 | 10 | 19

Seite 97

Halbiere die Zahl!

4 | 2 | 1 | 3 | 9 | 6 | 7 | 2 | 8 | 10 | 4 | 7 | 1 | 5 | 3 | 4

Baue die Mauer auf!

17 | 13 | 17 | 8,9,17 | 10,8,18 | 6,7,13 | 4,5,6,9,11,20
7,3,4,10,7,17 | 3,5,4,8,9,17

Seite 98

Wie oft passt die Zahl hinein?

4 | 7 | 3 | 8

Rechne die Raupen aus

11 | 17 | 8 | 17 | 20 | 17 | 13 | 15 | 8 | 16 | 5 | 10 | 9 | 18 | 20

Schritte bis 20

2,4,6,8,10,12,14,16,18,20 | 0,2,4,6,8,10,12,14,16,18
4,8,12,16,20

Rechne beide Seiten aus!

11 | 13 | 15 | 16 | 11 | 14 | 14 | 13

Seite 99

Verdopple die Zahl!

2 | 4 | 6 | 8 | 10 | 12 | 14 | 16 | 18 | 20 | 8 | 14

Schwieriger - finde die fehlenden Zahlen!

4 | 6 | 5 | 1,5,6 | 4,7,5 | 4,6,8 | 1,4,5,3,9,8 | 2,3,3,9,6
1,4,5,5,9,10

Wie oft passt die Zahl?

4 | 4 | 6 | 9

Seite 100

Größere Umkehraufgaben

12,5 | 11,8 | 14,3 | 15,4 | 13,6 | 10,8 | 12,7 | 11,5 | 14,5

Spinnenrad bis 20

14,7,12,17 | 3,12,15,6 | 11,7,15,5

Fünf und sechs weniger und mehr

2,12 | 4,14 | 7,17 | 4,16 | 9,19 | 1,11 | 3,13 | 1,7 | 6,16
10,20 | 7,19 | 12,18

Seite 101

Wer bin ich?

1) 8
2) 5
3) 12
4) 18

Tauschaufgaben

17 | 18 | 19 | 20 | 15 | 18 | 19 | 19

Vergleiche die Rechnungen

= | > | > | = | < | < | > | = | < | = | < | >

Seite 102

Größere Umkehraufgaben

12,4 | 10,7 | 16,2 | 9,8 | 11,4 | 8,7 | 13,5 | 14,4 | 12,6

Finde den richtigen Weg!

6+2+4=12 | 4+5+1=10 | 9+0+1=10 | 2+5+4=11

Seite 103

Welcher Körper ist das?

Quader | Kugel | Zylinder | Würfel

Auf großer Zutatensuche

14,11,18,16,20 | 8,16,12,17,8 | 15,8,17,14,20

Entkomme dem Dungeon!

16,15,12,8,7,5,1,7,9,8 | 19,17,14,10,15,17,12,13,11,14

Lösungen · Klasse 1

Seite 104

Pfeilrechnen

+5,+4,+5,-14,+9 | +2,+3,+2,-7,+5 | +6,-2,+6,-10,+4
+5,+3,+5,-13,+8 | +3,+2,+3,-8,+5 | +4,+1,+4,-9,+5

Setze das Muster fort

16,18,20 | 17,20 | 16,19 | 6,4,2

Spinnenrad – Kopfrechnen!

7,15,18,3 | 16,3,19,8 | 2,17,20,5

Seite 105

Wer bin ich?

- 1) 7
- 2) 18
- 3) 15
- 4) 12

Schritte in der Blume

3,6,9,12,15,18 | 0,3,6,9,12,15 | 0,4,8,12,16

Sechs und sieben weniger und mehr

0,12 | 3,15 | 6,18 | 4,18 | 8,20 | 1,13 | 4,16 | 1,8 | 7,19
2,14 | 12,19 | 6,13

Seite 106

Wie viel ist das zusammen?

8 | 8 | 4 | 8 | 4 | 10 | 6 | 11 | 3 | 7 | 4 | 10

Jede Reihe, Spalte und Diagonale ergibt 15

2,8,1 | 8,7,9 | 6,7,4

Finde die Umkehrung

16,16 | 18,18 | 20,20 | 15,15 | 19,19 | 13,13 | 17,17 | 14,14
20,20

Seite 107

Sieben und acht weniger und mehr

0,14 | 2,16 | 10,17 | 2,18 | 12,19 | 4,11 | 6,13 | 3,19 | 1,15
3,10 | 4,20 | 9,17

Schwere Muster

5,7 | 10,13 | 15,16 | 9,13

Wege!

1+1+0+7=9 | 5+1+2+2=10 | 0+4+7+1=12 | 6+1+6+1=14

Seite 108

An der Wäscheleine

11 | 12 | 10 | 9

Was fehlt?

9 | 8 | 7 | 6 | 5 | 4 | 3 | 2 | 1 | 8 | 9 | 7

Was kommt in den Kessel?

7,15,9,13,20 | 15,11,17,14,5 | 7,12,9,18,20

Seite 109

Das große Wald-Labyrinth

1) A1, B1, C2, D2, E3, F3, G4, H4, H5, G6, G7, H7, I6, I5,
J5, K6, L6, M7, L7, M6, M5, L4, M4, N3, N4, N5, N6, N7

Fülle die Plus-Tabellen aus

[10, 12, 13],[8, 10, 11],[14, 16, 17],[6, 8, 9]
[6, 10, 12],[13, 17, 19],[9, 13, 15],[14, 18, 20]
[13, 10, 17],[11, 8, 15],[16, 13, 20],[8, 5, 12]

Acht und neun weniger und mehr

0,16 | 2,18 | 10,18 | 0,18 | 12,20 | 1,9 | 3,11 | 2,20 | 4,20
0,8 | 10,19 | 2,11

Seite 110

Abenteuer bis 20!

12,17,16,12,10,8,6,12,7,11 | 3,0,1,5,2,7,4,1,3,0

Wie viele Sterne hat jedes Kind?

3 | 6 | 4 | 7 | 5 | 8 | 2 | 9

Karten zusammenzählen

13 | 13 | 13 | 14 | 12 | 14 | 17 | 16 | 14 | 12 | 15 | 17 | 20 | 20
20 | 20

Seite 111

Verdopple die Zahl!

14 | 8 | 12 | 16 | 20 | 18 | 6 | 10 | 4 | 2 | 14 | 20

Magische Dreiecke – verschiedene Summen

6,4,5 | 6,2,4 | 5,1,3 | 3,1,2

Geheime Magier-Schrift

14 | 12 | 15 | 12 | 3 | 1 | 11 | 13 | 2

Wähle die richtigen Karten

6+9 | 5+7 | 7+6 | 8+6 | 5+12 | 4+7 | 11+3 | 9+7

Seite 112

Gerecht teilen

4 | 5 | 6 | 7 | 8 | 9 | 10

Sortiere die großen Zahlen!

11<13<14<16<18<19 | 20>19>17>15>13>12
11<13<15<16<19<20 | 20>18>17>14>13>11

Wer ist beliebter?

17 | 16 | 19 | 20 | 6

Seite 113

Minus-Tabelle

[13, 11, 9],[10, 8, 6],[7, 5, 3],[18, 16, 14]
[10, 8, 5],[16, 14, 11],[7, 5, 2],[13, 11, 8]
[14, 11, 9],[10, 7, 5],[17, 14, 12],[8, 5, 3]

Karten abziehen

9 | 9 | 7 | 9 | 7 | 8 | 5 | 11 | 8 | 9 | 7 | 7 | 19 | 18 | 18 | 17

Quadrate bis 20

6,4,8 | 9,4,8 | 6,7,5 | 8,7,5 | 4,7,8 | 5,8,6 | 8,9,7 | 7,8,9
6,9,5 | 9,5,7

Ergänze die Zahlenhäuser bis 20

7+5 8+4 9+3 10+2 | 8+6 9+5 3+11 2+12
9+7 10+6 12+4 13+3 | 13+5 10+8 7+11 6+12
11+9 12+8 15+5 17+3 | 4+7 5+6 8+3 9+2
6+9 7+8 3+12 5+10

Lösungen · Klasse 1

Seite 114

Der letzte Dungeon!

20,14,8,2,1,3,8,4,6,9,14 | 11,9,4,0,3,6,10,12,14,11

Stifte messen

13,20,16,11 | 18,14,20,9 | 15,18,20,14 | 20,14,17,16

Seite 115

Wähle die richtigen Karten

9+11 | 10+8 | 2+14 | 13+6 | 12+7 | 11+5 | 8+10 | 6+11

Fülle die Plus-Tabellen aus

[13, 15, 18],[11, 13, 16],[15, 17, 20],[9, 11, 14]

[10, 15, 16],[14, 19, 20],[8, 13, 14],[12, 17, 18]

[14, 16, 20],[10, 12, 16],[12, 14, 18],[9, 11, 15]

Finde die geheime Karte

6 | 8 | 6 | 6 | 8 | 3 | 4 | 5 | 5 | 6 | 3 | 6

Weitere Quadrate bis 20

8,7,8 | 6,8,9 | 4,9,7 | 8,6,5 | 7,4,9 | 9,3,8 | 7,6,4 | 5,8,9

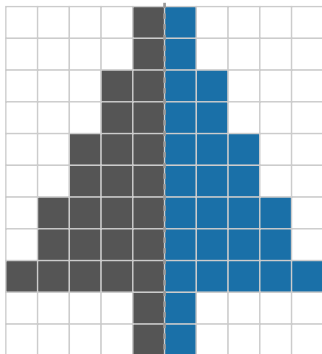

8,7,5 | 8,4,7

Seite 116

Hat sich Euli verrechnet?

13 | 8 | 11 | 7 | 15 | 9 | 14 | 6

Male die großen Spiegelbilder fertig



Neun und zehn weniger und mehr

0,18 | 1,19 | 10,19 | 10,20 | 0,9 | 11,20 | 2,11 | 0,20 | 9,18

1,10 | 2,20 | 0,10

Seite 117

Knobel-Bonus: Welche Faltvorlage wird ein Würfel?

Ja | Nein | Ja | Nein | Ja | Nein | Ja | Nein

Andersherum - was steht vorne?

19 | 18 | 17 | 16 | 15 | 14 | 13 | 12 | 11 | 13 | 12 | 14

Welcher Tag ist es?

- 1) 8
- 2) 6
- 3) 9
- 4) 12

Seite 118

Datum bestimmen

- 1) 10
- 2) 17
- 3) 6
- 4) 12
- 5) 18
- 6) 7

Knobel-Bonus: Verdreifachen

3 | 6 | 9 | 12 | 15 | 18 | 6 | 9 | 12 | 15 | 18 | 3

Gemischt - Ergänze bis 20!

18 | 11 | 16 | 8 | 1 | 10 | 14 | 9 | 12 | 6 | 7 | 5

Was kostet das zusammen?

- 1) 9
- 2) 11
- 3) 10
- 4) 9

Seite 119

Minus-Tabelle

[13, 11, 9],[11, 9, 7],[16, 14, 12],[7, 5, 3]

[13, 11, 9],[11, 9, 7],[9, 7, 5],[5, 3, 1]

[19, 16, 12],[16, 13, 9],[12, 9, 5],[9, 6, 2]

Euli geht einkaufen

3€ 14ct | 3€ 12ct | 4€ 13ct | 2€ 12ct

Welcher Tag ist es?

- 1) 13
- 2) 7
- 3) 9
- 4) 12

Seite 120

Minus üben bis 20

12 | 11 | 12 | 13 | 8 | 6 | 8 | 8 | 4 | 13 | 9 | 9

Tage im Kalender suchen

- 1) 11
- 2) 17
- 3) 8
- 4) 9
- 5) 17
- 6) 4

Halbe Stunden

halb 4 | halb 6 | halb 9 | halb 2 | halb 11 | halb 7 | halb 1
halb 3 | halb 8 | halb 5 | halb 10 | halb 12

Lösungen · Klasse 1

Seite 121

Wie viele sind zusammen in den Behältern?

17 | 20 | 18 | 16

Knobel-Bonus: Noch mehr verdreifachen

15 | 18 | 12 | 6 | 12 | 9 | 9 | 6 | 18 | 18 | 3 | 15

Hat sich Euli verrechnet?

14 | 9 | 16 | 7 | 15 | 8 | 15 | 8

Seite 122

Länge der Bleistifte

C | C | C | B

Welcher Tag ist es?

- 1) 7
- 2) 7
- 3) 12
- 4) 14

Minus bis 20



13 | 12 | 13 | 14 | 7 | 7 | 9 | 9 | 5 | 10 | 10 | 8

Seite 123

Domino zusammenzählen

$11 + 7 = 18$ | $10 + 7 = 17$ | $8 + 8 = 16$ | $7 + 6 = 13$ | $8 + 9 = 17$
 $10 + 9 = 19$

Symmetrie-Profi



Addiere in der Golem-Pyramide



Seite 124

Drei Behälter zusammenrechnen

20 | 19 | 19 | 20

Numerion geht einkaufen

16€ 13ct | 14€ 14ct | 15€ 15ct | 16€ 12ct

Lösungen · Klasse 1

Seite 125

Plus und Minus bis 20

17 | 14 | 17 | 9 | 19 | 12 | 18 | 8 | 17 | 7 | 18 | 13

Welcher Tag ist es?

- 1) 13
- 2) 8
- 3) 16
- 4) 12

Wie viel Geld liegt hier?

3€ | 3€ | 5€ | 6€ | 4€ | 4€ | 5€ | 6€ | 6€ | 5€ | 7€ | 4€

Seite 126

Große Minus-Tabelle

[16, 13, 11],[12, 9, 7],[9, 6, 4],[7, 4, 2]
[14, 11, 13],[12, 9, 11],[9, 6, 8],[7, 4, 6]
[11, 9, 10],[9, 7, 8],[8, 6, 7],[6, 4, 5]

Plus und Minus

16 | 11 | 6 | 7 | 7 | 14 | 17 | 7 | 15 | 17 | 12 | 19

Im Spielzeuginnenladen

- 1) 13€
- 2) 8
- 3) 20
- 4) 4
- 5) 17

Seite 127

Wie viel Rückgeld?

- 1) 16
- 2) 14
- 3) 12
- 4) 18

Tauschen macht's leichter!

11 | 11 | 11 | 11 | 13 | 13 | 13 | 15

Anzahl Zutaten für magische Rezepte

16 | 18 | 18 | 16 | 18 | 18 | 18 | 17

Seite 128

Knifflig - Plus und Minus

7 | 8 | 7 | 16 | 11 | 8 | 7 | 8 | 8 | 13 | 19 | 9

Welche Münzen?

2€ + 1€ + 2ct + 1ct | 2€ + 2€ | 1€ + 20ct
10ct + 5ct + 2ct + 1ct | 2€ + 10ct + 5ct | 2€ + 2€ + 1€
2€ + 1€ + 10ct

Finde die geheime Karte

5 | 6 | 4 | 4 | 6 | 6 | 3 | 7 | 3 | 5 | 3 | 8

Seite 129

Geld zählen

2€ 15ct | 2€ 20ct | 2€ 5ct | 3€ 20ct | 1€ 15ct | 4€ 10ct
2€ 20ct | 3€ 5ct | 1€ 20ct | 5€ | 1€ 10ct | 3€ 10ct

Welche Münzen brauchst du?

2€ + 1€ | 2€ + 2€ + 1€ | 1€ + 5ct | 2€ + 2€ + 2€ + 1€
2€ + 20ct | 2€ + 2€ + 10ct | 2€ + 2€ + 2€ + 10ct + 5ct

Seite 130

Was fehlt?

5 | 8 | 6 | 13 | 7 | 9 | 8 | 15 | 8 | 8 | 5 | 7

Knacke den Code Schritt für Schritt

7 | 9 | 4 | 6 | 13 | 13 | 11 | 15 | 3

Klötzchen zählen

7,5,12 | 7,7,14 | 6,6,12 | 7,6,13 | 4,7,11 | 5,6,11 | 8,8,16
6,8,14 | 7,8,15

Seite 131

Münzen zählen

3€ 15ct | 2€ 17ct | 2€ 17ct | 1€ 18ct | 4€ 17ct | 1€ 10ct
5€ 20ct | 2€ 8ct

Im Schwimmbad

- 1) 17
- 2) 7
- 3) 16
- 4) 7
- 5) 14

Seite 132

Volle und halbe Stunden

4:00 | halb 8 | 12:00 | halb 3 | halb 10 | halb 11 | 1:00
halb 7 | halb 4 | 8:00 | halb 6 | 11:00

Euli und Numerion gehen einkaufen

11€ 16ct | 17€ 17ct | 12€ 20ct | 11€ 16ct

Seite 133

Welche Münzen?

2€ + 20ct | 2€ + 2€ + 5ct | 2€ + 1€ + 10ct
2€ + 2€ + 1€ + 20ct | 1€ + 10ct + 5ct | 2€ + 2€ + 2€ + 10ct
2€ + 1€ + 10ct + 5ct

Aufgaben zum Nachdenken

- 1) 13
- 2) 15
- 3) 7
- 4) 8
- 5) 13

Seite 134

Welche Münzen brauchst du?

2€ + 20ct | 2€ + 2€ + 1€ + 5ct | 2€ + 1€ + 10ct + 5ct
2€ + 2€ + 10ct | 1€ + 10ct + 2ct | 2€ + 2€ + 2€ + 10ct + 5ct
2€ + 2€ + 2€ + 1€ + 20ct

Zahlen-Zauber

5 | 7

Seite 135

Uhrzeiten gemischt

halb 2 | 6:00 | halb 10 | halb 5 | 8:00 | halb 12 | 2:00 | halb 6
halb 11 | 3:00 | halb 8 | halb 1

Im Supermarkt

- 1) $10 \rightarrow 1$
- 2) $4 \rightarrow 6$
- 3) $6 \rightarrow 6$
- 4) $10 \rightarrow 15$
- 5) $9 \rightarrow 4$

Seite 137

Boss-Level Zahlenraum 20

17